



KULLEĠĠ SAN NIKOLA  
L-EŻAMIJIET TA' NOFS IS-SENA  
Frar 2012

Il-Ħames Sena

STUDJU SOĊJALI

Ħin: Siegħa u kwart

L-Isem: \_\_\_\_\_ Il-Klassi: \_\_\_\_\_

Marka

**A. Aqta' linja taħt it-tajba. (10 marki)**

1. Meta nitlob xi ħaġa għandi ngħid (jekk jogħġbok, grazzi, kif inti).
2. Meta jkun hemm xi gwerra f'xi pajjiż għandna nuru (rispett, solidarjeta`, rabja) billi nibagħtu xi tip ta' għajnuna.
3. Nuru (rispett, generożita`, onesta`) meta ma nisirqux minn xi mkien.
4. Meta nieħu ħsieb nagħmel ix-xogħol kollu nkun (responsabbli, generuż, qed nuri rispett).
5. Il-ħut li jinqabad jittieħed ( il-pitkalija, il-pixkerija, il-Mosta).
6. It-torri ta' San Luċjan jinsab (il-Gudja, Marsaxlokk, il-Belt Valletta).
7. L-Imdina hija magħrufa bħala 'Il-Belt Siekta' għax hi (pjuttost kwieta, antika, fuq għolja).
8. Is-swar kienu jipproteġu lis-soldati (Maltin, Torok, Taljani).
9. Il-Birgu nsibuh ukoll bħala (Cospicua, Senglea, Vittoriosa).
10. Ir-rapport tat-temp joħroġ mill-uffiċċju (meteorologiku, minn Kastilja, mill-palazz ta' San Anton).



B. Qabbel billi tikteb in-numru fil-kaxxa t-tajba. (10 marki)



1.	Il-lampuki jistgħu jinqabdu		jinqabad fl-istagun tat-tkarkir.
2.	Fl-istagun tat-tkarkir jistgħu		fir-rimja tiegħu.
3.	Il-ħut li jinqabad f'April		Marsalforn.
4.	L-istagun tal-lampara jibda minn Mejju		jinqabdu ħut tal-qiegħ.
5.	Kull sajjied imur jistad		ż-Żurrieq.
6.	Raħal tas-sajd f'Malta huwa		sal-bidu t'Awwissu.
7.	Raħal tas-sajd f'Għawdex huwa		bil-millimetri
8.	Ix-xita titkejjel		f'Novembru.
9.	It-temperatura titkejjel bi		jkun il-maltemp.
10.	Meta l-pressjoni tkun baxxa		gradi Celsius.

Ċ. Ikteb Veru jew Falz.

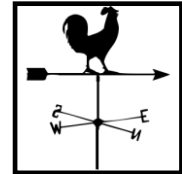
(10 marki)



1.	L-Imdina mhix qiegħda qrib il-baħar.	
2.	Ir-Rumani dawwru l-Birgu bis-swar.	
3.	Il-Birgu ma jinstabx fil-Kottonera.	
4.	L-Għolja tal-Ħelsien tinstab il-Birgu.	
5.	Fl-Imdina nsibu toroq dritti u wesgħin.	
6.	In-naħa ta' quddiem ta' dgħajsa tissejjaħ poppa.	
7.	Fil-qalba tar-raħal il-bini jkun ġdid.	
8.	Il-knisja parrokkjali tkun fil-pjazza.	
9.	L-ambjent soċjali hu magħmul min-nies li jgħixu fis-soċjeta`.	
10.	Il-gwardjan lokali jagħtik ċitazzjoni jekk tipparkja ħażin.	

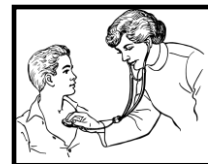
**D. Aqta' linja taħt il-kelma li ma taqbilx. (5 marki)**

1. knisja parrokkjali, il-qalba tar-raħal, il-kunsill lokali, ċerna
2. pixxispad, kavall, xadina, lampuka
3. belt antika, il-Palazz tal-Inkwizitur, Imdina, iċ-Ċittadella
4. it-torri tal-Istandard, Imdina, San Lawrenz, katidral
5. termometru, millimetri, pluvjometru, anemometru



**E. Imla l-vojt bil-kelma t-tajba. (10 marki)**

1. Il-qaddis patrun tal-Birgu hu San \_\_\_\_\_.
2. Isem ta' fortizza fil-Birgu hija \_\_\_\_\_.
3. Fi grupp il-membri għandhom jiddiskutu u mhux \_\_\_\_\_.
4. It-tobba jgħinu lill-komunita` billi \_\_\_\_\_ lin-nies.
5. L-għalliema jgħinu lill-komunita` billi \_\_\_\_\_ lit-tfal.
6. Malta għandna klima tal-\_\_\_\_\_.
7. L-ewwel grupp li niffurmaw parti minnu f'ħajjitna hu l-\_\_\_\_\_.
8. L-irjieħ huma t-Tramuntana, in-\_\_\_\_\_, il-Lbiċ, il-Punent, ix-\_\_\_\_\_, il-Lvant u l-Grigal.
9. Il-Palazz tal-Inkwizitur kien jintuża bħala \_\_\_\_\_.



F. Qabbel il-kelma mal-istampa.

(10 marki)

Il-Katidral tal-Imdina	Bieb fl-Imdina	Il-knisja tal-Birgu
Bieb fil-Birgu	Il-Katidral taç-Ċittadella	



a. \_\_\_\_\_



b. \_\_\_\_\_



ċ. \_\_\_\_\_



d. \_\_\_\_\_




e. \_\_\_\_\_

Ġ. Aqra u wara wiegeb il-mistoqsijiet. (10 marki)

<b>Jum</b>	It-Tnejn	It-Tlieta	L-Erbgħa
<b>Data</b>	17 t'Awwissu	18 t'Awwissu	19 t'Awwissu
<b>Is-sema</b>	Xemxi	Imsaħħab	Maltempati bix-xita
<b>Temperatura tal-jum</b>	34°C	30°C	28°C
<b>Temperatura tal-lejl</b>	30°C	26°C	22°C
<b>Direzzjoni tar-riħ</b>	Majjistral	Xlokk	Nofsinhar
<b>Forza</b>	Ħafif (2 għal 3)	Qawwi - Forza 6	Qawwi - Forza 6
<b>Xita tal-gurnata</b>	xejn	xejn	2 mm
<b>Indiċi UV</b>	11	9	7

1. Liema hi l-aħjar gurnata biex mara tad-dar tnixxef il-ħwejjeg? (1)

\_\_\_\_\_.



2. Pawlu, sajjied minn Marsaxlokk irid joħroġ jistad. Meta hi l-aħjar gurnata biex joħroġ jistad bil-luzzu tiegħu. Għaliex? (2)

---



---



---

3. Nhar it-Tnejn il-mama` ma ħallietx lil Marta toħroġ bejn nofsinhar

u t-tlieta. Għaliex? (2)

---

---

4. Għalfejn it-temperatura tal-lejl tkun inqas minn tal-gurnata? (2)

---

---

5.i) It-Tnejn ir-riħ kien mill-Majjistral. Dan ifisser li r-riħ kien qed jonfoħ minn fuq (l-Ewropa, l-Afrika, l-Asja). (1)

ii) L-\_\_\_\_\_ r-riħ kien min-Nofsinhar. Mela r-riħ kien qed jonfoħ minn fuq (l-Afrika, l-Ewropa, l-Asja). (2)

**6. Għid kieku inti x'tagħmel f'dawn is-sitwazzjonijiet. (10 marki)**

1. Inti membru f'għaqda. Waqt laqgħa l-membri tal-grupp ma jistgħux jiftiehm. Kieku inti x'tagħmel?



---

---

2. Seħħ terremot fl-Italja. Il-pajjiż qed jitlob għall-għajnuna ta' provisti bħal ikel u kutri. Kieku inti x'tagħmel?

---

---

3. Ommok ma tiflaħx. Tinsab fis-sodda u ma tistax tqum fuq ordni tat-tabib. Inti x'tagħmel?



---

---

4. L-uffiċċju meteorologiku qed joħroġ twissijiet ta' maltemp qawwi. Inti trid tmur l-iskola. X'se tagħmel?



---

---

5. Il-kelb għandu bżonn joħroġ għall-passigġata. X'tagħmel biex waqt li tagħmel dan, tkun qed tħares l-ambjent naturali?



---

---



**GH. Agra din is-silta u wara wiegeb.**

(10 marki)

Laura, tifla t'għaxar snin, kienet riekba fuq karozza tal-linja. Il-karozza tal-linja kienet mimlija daqs bajda iżda billi Laura kienet rikbet minn fuq il-venda, kellha post bilqiegħda. Magenbha fuq in-naħa ta' gewwa kien hemm mara pulita.



Ftit wara l-karozza waqfet fuq stejg u fost dawk li telgħu kien hemm ragel xwejjaf li kellu bastun f'idu. Peress li ma sabx post bilqiegħda baqa' wieqaf u żamm mal-maqbad li kien fis-saqaf. Beda jitbandal ma' kull skoss, ser jaqa' u ma jaqax. Is-sinjura qalet lil Laura bil-ħlewwa biex iċċedi postha lix-xwejjaf. Laura iżda ma riditx għax qalet li ma kienx qed ibati għax kellu ma' xiex iżomm u kien qed iserraf mal-bastun. Is-sinjura ma qatgħetx qalbha u qaltilha li l-edukazzjoni titlob li t-tfal iċċedu posthom lill-anzjani. Laura webset rasha u qaltilha li hi kellha dritt tibqa' bilqiegħda għax ħallset daqsu u għax telgħet qablu.

Il-mara ma felħitx aktar u ċediet postha hi lix-xiħ!

(addattament minn 'Fuq tal-Linja' ta' Carmel G. Cauchi)

1. Liema mezz ta' trasport qed tuża' Laura? \_\_\_\_\_

2. Semmi żewġ raġunijiet għala Laura ma riditx tqum lix-xwejjaf?


i) \_\_\_\_\_

ii) \_\_\_\_\_

3. X'valur ċiviku nkunu qed nirrispettaw meta nċedu postna lil xi ħadd fuq tal-linja? \_\_\_\_\_
4. Aqta' sing taħt it-tajba: Laura kienet (onesta, egoista, altruista) għax ma ċedietx postha.
5. Il-mara ta' magenb Laura kienet (kattiva, egoista, altruista) għax ħasbet f'ħaddieħor.

**H: Ikteb ħames sentenzi dwar is-sugġett magħżul. (15-il marka)**

- a) Kif tista' tkun onest fl-iskola.
- b) L-Akwakultura
- ċ) Il-lokal tiegħi



---

---

---

---

---

---

---

---

---

---

---

---

---

Tmiem il-Karta

